

Промежуточная аттестация по физике

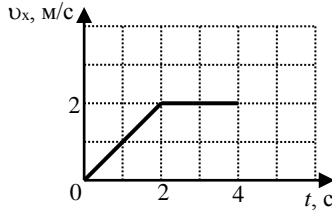
Фамилия _____ Имя _____ Класс 10

ВАРИАНТ 1

Часть 1

К каждому из заданий А1-А7 даны 4 варианта ответа, из которых только один правильный. Номер этого ответа обведите кружком.

А1.



Тело движется по оси Ox . На графике показана зависимость проекции скорости тела на ось Ox от времени. Каков путь, пройденный телом к моменту времени $t = 4$ с?

- 1) 6 м 2) 8 м 3) 4 м 4) 5 м

А2. На горизонтальном полу стоит ящик массой 10 кг. Коэффициент трения между полом и ящиком равен 0,25. К ящику в горизонтальном направлении прикладывают силу 16 Н. Какова сила трения между ящиком и полом?

- 1) 0 Н 2) 2,5 Н 3) 4 Н 4) 16 Н

А3. Внешние силы совершили над газом работу 300 Дж, при этом внутренняя энергия газа увеличилась на 500 Дж. В этом процессе газ

- 1) отдал количество теплоты 100 Дж 2) получил количество теплоты 200 Дж
3) отдал количество теплоты 400 Дж 4) получил количество теплоты 400 Дж

А4. Объем 3 моль водорода в сосуде при температуре 300 К и давлении p_1 равен V_1 . Чему равен объем 3 моль кислорода в сосуде при той же температуре и том же давлении?

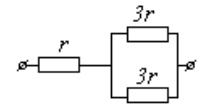
- 1) V_1 2) $8V_1$ 3) $24V_1$ 4) $V_1/8$

А5. Расстояние между двумя точечными электрическими зарядами увеличили в 2 раза, а один из зарядов уменьшили в 4 раза. Сила электрического взаимодействия между ними

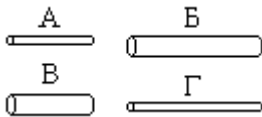
- 1) не изменилась 2) уменьшилась в 4 раза 3) увеличилась в 4 раза 4) уменьшилась в 16 раз

А6. На рисунке показан участок цепи постоянного тока. Каково сопротивление этого участка, если $r = 1$ Ом?

- 1) 7 Ом 2) 2,5 Ом 3) 2 Ом 4) 3 Ом



А7. Чтобы экспериментально проверить, что жесткость упругого стержня зависит от его длины, надо использовать пару стальных стержней



- 1) А и Б 2) Б и В 3) В и Г 4) Б и Г

Часть 2

В заданиях В1-В2 требуется указать последовательность цифр, соответствующих правильному ответу. Эту последовательность следует записать в текст проверочной работы. (Цифры в ответе могут повторяться).

В1. Брусок движется равномерно по горизонтальной поверхности. Установите для силы трения соответствие между параметрами силы, перечисленными в первом столбце таблицы и свойствами вектора силы:

- 1) вертикально вниз
- 2) против направления вектора скорости
- 3) вертикально вверх
- 4) обратно пропорционален площади поверхности бруска
- 5) пропорционален силе нормального давления
- 6) обратно пропорционален силе нормального давления
- 7) пропорционален площади поверхности бруска
- 8) не зависит от площади поверхности бруска

Запишите в таблицу выбранные цифры для каждой физической величины. Цифры в ответе могут повторяться.

Направление вектора	
Модуль вектора	

В2. Камень брошен вертикально вверх. Изменяются ли перечисленные в первом столбце физические величины во время его движения вверх и если изменяются, то как?

Установите соответствие между физическими величинами, перечисленными в первом столбце, и возможными видами их изменений, перечисленными во втором столбце. Влиянием сопротивления воздуха пренебречь.

ФИЗИЧЕСКИЕ ВЕЛИЧИНЫ

- А) скорость
- Б) ускорение
- В) кинетическая энергия
- Г) потенциальная энергия

ИХ ИЗМЕНЕНИЯ

- 1) не изменяется
- 2) увеличивается
- 3) уменьшается

А	Б	В	Г

Ответом к заданию В3 будет некоторое число. Это число надо записать в месте для ответа. Единицы физических величин писать не нужно. Ниже оформите решение задачи.

В3. Вычислите силу тока в цепи при подключении к источнику постоянного тока с ЭДС 6 В и внутренним сопротивлением 1 Ом резистора с электрическим сопротивлением 2 Ом. Ответ запишите числом, выраженным в амперах.

Ответ _____ А

Промежуточная аттестация по физике

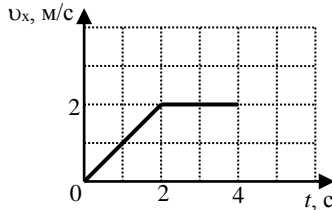
Фамилия _____ Имя _____ Класс 10

ВАРИАНТ 2

Часть 1

К каждому из заданий А1-А7 даны 4 варианта ответа, из которых только один правильный. Номер этого ответа обведите кружком.

А1.



Тело движется по оси Ox . На графике показана зависимость проекции скорости тела на ось Ox от времени. Каков путь, пройденный телом к моменту времени $t = 3$ с?

- 1) 8 м 2) 6 м 3) 5 м 4) 4 м

А2. Подъёмный кран поднимает груз с постоянным ускорением. На груз со стороны каната действует сила, равная по величине 8000 Н. На канат со стороны груза действует сила, которая
1) равна 8000 Н 2) меньше 8000 Н 3) больше 8000 Н 4) равна силе тяжести, действующей на груз

А3. Газ совершил работу 300 Дж, при этом внутренняя энергия газа увеличилась на 400 Дж. В этом процессе газ

- 1) отдал количество теплоты 700 Дж 2) получил количество теплоты 700 Дж
3) отдал количество теплоты 100 Дж 4) получил количество теплоты 100 Дж

А4. Объём 6 моль азота в сосуде при температуре 500 К и давлении p равен V . Чему равен объём 6 моль кислорода в сосуде при той же температуре и том же давлении?

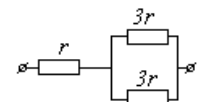
- 1) $V/8$ 2) $24V$ 3) $8V$ 4) V

А5. Расстояние между двумя точечными электрическими зарядами увеличили в 4 раза, а один из зарядов увеличили в 8 раз. Сила электрического взаимодействия между ними

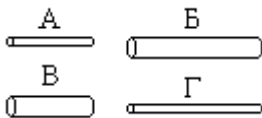
- 1) не изменилась 2) уменьшилась в 2 раза 3) увеличилась в 2 раза 4) увеличилась в 32 раза

А6. На рисунке показан участок цепи постоянного тока. Каково сопротивление этого участка, если $r = 2$ Ом?

- 1) 3 Ом 2) 12 Ом 3) 14 Ом 4) 5 Ом



А7. Чтобы экспериментально проверить, что жесткость упругого стержня зависит от его длины, надо использовать пару стальных стержней

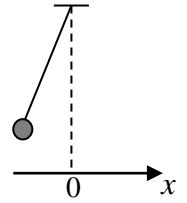


- 1) А и Б 2) Б и В 3) В и Г 4) Б и Г

Часть 2

В заданиях В1-В2 требуется указать последовательность цифр, соответствующих правильному ответу. Эту последовательность следует записать в текст проверочной работы. (Цифры в ответе могут повторяться).

В1. Груз, привязанный к нити, отклонили от положения равновесия и в момент $t = 0$ отпустили из состояния покоя (см. рисунок). На графиках А и Б показано изменение физических величин, характеризующих движение груза после этого. Установите соответствие между графиками и физическими величинами, зависимости которых от времени эти графики могут представлять. К каждой позиции первого столбца подберите соответствующую позицию из второго столбца.



А	Б

ГРАФИКИ	ФИЗИЧЕСКИЕ ВЕЛИЧИНЫ
<p>А)</p>	<p>1) координата x</p> <p>2) проекция скорости v_x</p> <p>3) кинетическая энергия E_k</p> <p>4) потенциальная энергия E_p</p>
<p>Б)</p>	

В2. Камень брошен вертикально вверх. Изменяются ли перечисленные в первом столбце физические величины во время его движения вверх и если изменяются, то как?

Установите соответствие между физическими величинами, перечисленными в первом столбце, и возможными видами их изменений, перечисленными во втором столбце. Влиянием сопротивления воздуха пренебречь.

ФИЗИЧЕСКИЕ ВЕЛИЧИНЫ

- А) скорость
- Б) ускорение
- В) кинетическая энергия
- Г) потенциальная энергия

ИХ ИЗМЕНЕНИЯ

- 1) уменьшается
- 2) увеличивается
- 3) не изменяется

А	Б	В	Г

Ответом к заданию В3 будет некоторое число. Это число надо записать в месте для ответа. Единицы физических величин писать не нужно. Ниже оформите решение задачи.

В3. Вычислите силу тока в цепи при подключении к источнику постоянного тока с ЭДС 12 В и внутренним сопротивлением 1 Ом резистора с электрическим сопротивлением 3 Ом. Ответ запишите числом, выраженным в амперах.

Ответ _____ А